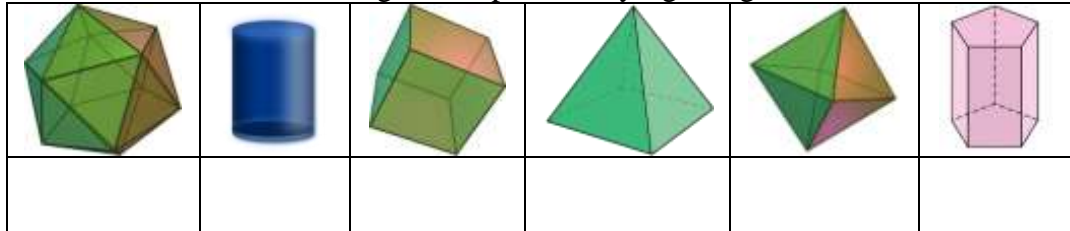


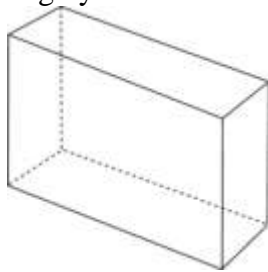
NOMBRE _____ CURSO ____ FECHA _____

NOTA: TODOS LOS RESULTADOS SE REDONDEARÁN A 2 DECIMALES.
NO OLVIDAR PONER LAS UNIDADES O SE PERDERÁ NOTA.

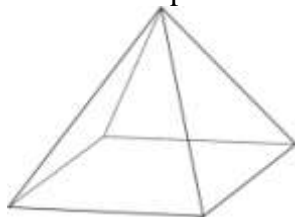
- 1) Indica los nombres de los siguientes poliedros y figuras geométricas:



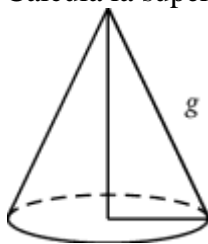
- 2) Calcula la superficie de un prisma de base rectangular de 2 m de ancho, 3 m de largo y 4 m de alto.



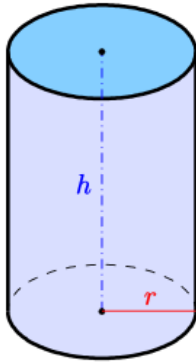
- 3) Calcula la superficie de una pirámide cuadrada de lado 4 m y apotema 3 m.




- 4) Calcula la superficie de cono de radio 4 m y altura 6 m.



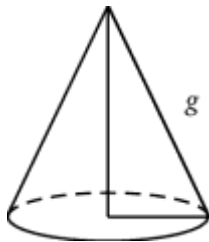
- 5) Calcula el área de un cilindro de radio 3 m y altura 5 m.



- 6) Calcula el volumen de un prisma cuadrado de lado 3 m y altura 5 m.



- 7) Calcula el volumen de cono de radio 4 cm y generatriz 6 cm.



- 8) Calcula el volumen de una esfera de radio 3 cm.

